

確認テスト①

身のまわりの生物

クラス 氏名

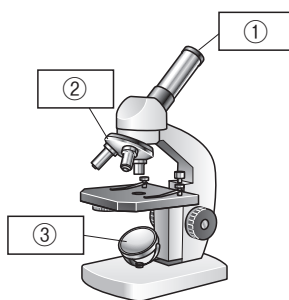
/100

● 次の各問いに答えなさい。

各 10 点 × 10

□(1) 目を傷めるので、ルーペや双眼鏡で観察をしてはいけないものは何か。 (1) _____

□(2) 右の図の にあてはまる、ステージが上下する顕微鏡の部分の名称をかきなさい。



(2) ① _____
② _____
③ _____

□(3) 10倍の接眼レンズと、20倍の対物レンズを用いたときの、顕微鏡の倍率は何倍か。

(3) _____

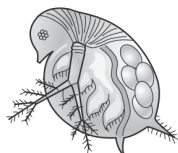
□(4) スライドガラスに観察物をのせ、上からカバーガラスをかけたものを何というか。

(4) _____

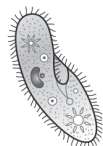
□(5) 次の図は、水中のいろいろな生物を示したものである。①～④の生物を何というか。

(5) ① _____
② _____
③ _____
④ _____

□ ①



□ ②



□ ③



□ ④

